

达标测试卷

题号	一	二	三	四	五	六	七	八	总分
得分									

一、我来巧口算。(12分)

$45+3=(48)$

$32+40=(72)$

$65+7=(72)$

想: $5+3=8$
 $40+8=48$

想: $30+40=70$
 $70+2=72$

想: $5+7=12$
 $60+12=72$

$56-4=(52)$

$76-30=(46)$


$82-7=(75)$

想: $6-4=2$
 $2+50=52$

想: $70-30=40$
 $40+6=46$

想: $12-7=5$
 $70+5=75$

二、把小动物送上车。(连一连)(4分)

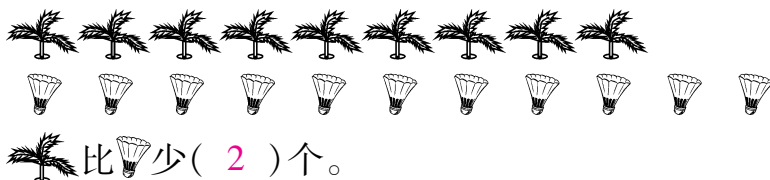


三、想一想,填一填。(20分)

1. 一个加数是 50, 另一个加数是 26, 它们的和是(76)。

2. 减数是 7, 被减数是 42, 差是(35)。

3. 比一比, 填一填。








4. 89 比 50 多(39), 30 比 47 少(17)。
5. 比 53 少 7 的数是(46), 比 58 多 9 的数是(67)。
6. 56 加上(8)与 $34+30$ 的结果相等, 72 减去(7)与 $45+20$ 的结果一样大。
7. (56) $-26=30$ $67-(40)=27$ $82-(12)=70$
8. 连续加 7, 将每次加得的结果写在括号里。

$$23 \xrightarrow{+7} (30) \xrightarrow{+7} (37) \xrightarrow{+7} (44) \xrightarrow{+7} (51) \xrightarrow{+7} (58)$$

9. 猜猜我是几。



四、小动物过河。(10 分)

				
$29+30=59$	$95-30=65$	$37-8=29$	$54-6=48$	$79+2=81$
$67-20=47$	$89-7=82$	$50+26=76$	$70-6=64$	$64-7=57$
$62+7=69$	$26+8=34$	$32-7=25$	$83-9=74$	$9+24=33$
$46+7=53$	$20+39=59$	$71-8=63$	$53-6=47$	$45+9=54$

五、打开智慧锁。(填“>”“<”或“=”)(9 分)



$36+8 \begin{array}{|c|} \hline > \\ \hline \end{array} 42$

$54+6 \begin{array}{|c|} \hline = \\ \hline \end{array} 60$

$53+9 \begin{array}{|c|} \hline = \\ \hline \end{array} 7+55$

$36-8 \begin{array}{|c|} \hline > \\ \hline \end{array} 27$

$63-7 \begin{array}{|c|} \hline > \\ \hline \end{array} 54-8$

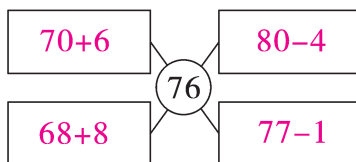
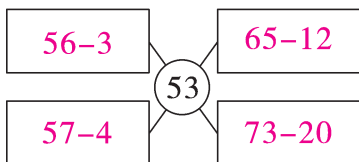
$46-7 \begin{array}{|c|} \hline > \\ \hline \end{array} 53-20$

$84-50 \begin{array}{|c|} \hline = \\ \hline \end{array} 34$

$54+5 \begin{array}{|c|} \hline < \\ \hline \end{array} 39+30$





$50-7 \begin{array}{|c|} \hline > \\ \hline \end{array} 37+5$

六、看得数，写算式。(8分)



(答案不唯一)

七、算一算，填一填。(12分)

				
原有	72 个	58 把	(79) 辆	65 副
卖出	5 个	(49) 把	49 辆	(45) 副
还剩	(67) 个	9 把	30 辆	20 副

八、解决问题。(25分)

1.


已经采了28个蘑菇，地里还剩3个。



地里原来有多少个蘑菇？


$$\boxed{28} \oplus \boxed{3} = \boxed{31} \text{ (个)}$$

2. 一共有 54 只小动物来森林餐厅用餐。



进去了20只，还有多少只小动物没进去？

$$\boxed{54} \ominus \boxed{20} = \boxed{34} \text{ (只)}$$

3. 
- 兔姐姐 兔妹妹

兔姐姐比兔妹妹多采了多少个蘑菇？

$$\boxed{40} - \boxed{8} = \boxed{32} \text{ (个)}$$

4. 丽水小区这几年新建楼房情况如下表：

前年	去年	今年
9 栋	20 栋	35 栋



- (1) 去年比今年少建了多少栋楼？

$$\boxed{35} - \boxed{20} = \boxed{15} \text{ (栋)}$$

- (2) 根据表中的信息,你还能提出什么数学问题? 自己提一提并解答。

【答案】前年和今年一共建了多少栋楼？

$$9+35=44 \text{ (栋)}$$

口答:前年和今年一共建了 44 栋楼。(答案不唯一)

5. (创新题)小丽有 15 支铅笔,小明给小丽 7 支铅笔后两人的铅笔就一样多了,小明原来有多少支铅笔?

【答案】 $15+7=22$ (支)

$$22+7=29 \text{ (支)}$$

口答:小明原来有 29 支铅笔。